

臺東縣關山鎮關山國民小學105學年度上學期期中評量試題

科目：數學 版本：康軒 評量範圍：第1-5單元 命題者：賴頤如 老師

二年_____班 座號： 姓名：

一、填填看看(每格2分，共50分)

1. 170→()→150→()→130。

2. 152→154→156→()→160
→()。

3. 把下面各數，從小到大排出來。

(1)

67 176 117 167
()→()→()→()

(2)

200 190 109 119
()→()→()→()

4. 4個 Ⓢ 可以換成()個 Ⓣ ；
也可以換成()個 Ⓡ 。

5. 下圖是小智吃午餐的時分間，小智吃午餐是在()時()分。



6. 10張貼紙裝一包，10包裝一袋裝一袋。

(1) 1袋有()張貼紙。

(2) 1袋又4包是()張貼紙。

(3) 1袋9包又1張，共是()張貼紙。

7. 寫出阿拉伯數字。

(1) 一百零八()。

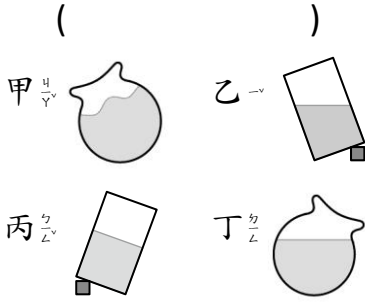
(2) 一百三十一()。

(3) 一百六十一()。

(4) 一百九十四()。

8. 下面哪一些容器傾斜靜止後的水平面是正確的？

()



9. 「189」的讀法()。

二、計算題

(答案1分，算式2分，共12分)

1. () - 20 = 39

2. 85 - () = 14

3. 31 - () = 16

4. () + 57 = 83

三、算算看看，並驗算。

(答案2分，算式2分，共16分)

1. $64 + 28 = ()$

2. $48 - 17 = ()$

驗算：

驗算：

3. $29 + 32 = ()$

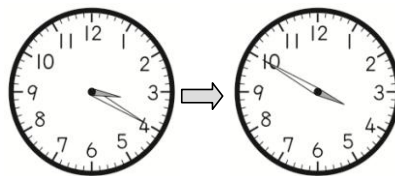
4. $87 - 39 = ()$

驗算：

驗算：

四、看看圖，回答問題。(每格2分，共6分)

1. 經過()分鐘。



2. :



五、應用題

(每題 4 分，共 16 分)

1. 在 69、86、34、51 這四個數中，最大和最小的數相差多少？

答：()


2. 一輛遊覽車可以坐 45 個人，現在車上坐了 32 個人，還差幾個人才會坐滿？

答：() 人

3. 草原上原來有一些人，後來又來了 12 人，現在在草原上共有 65 人，草原上原來有幾人？

用算式()的算式記問題，再算算看。

答：() 人

4. 阿寶下午  從家裡出發，走路到電影院要花 20 分鐘，買票花了 10 分鐘，距離電影院開演還有 5 分鐘，電影什麼時間開演？

答：() 時 () 分