

臺東縣關山鎮關山國民小學 105 學年度上學期期末評量試題

科目：社會

版本：康軒

評量範圍：第4、5、6單元

命題者：白創仁老師

四年 班

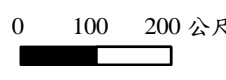
座號：

姓名：

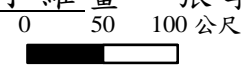
一、是非題(每題1分、共35分)

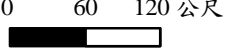
- () 1. 透過傳統節慶活動，可以體會先民敬天、惜物與愛人的智慧。
- () 2. 地圖上的各種景物，我們可以用「圖例」來表示，有了圖例，我們比較容易讀懂地圖。
- () 3. 早期農民會參考農民曆選擇適合栽種的作物。
- () 4. 圖上的圖例可以讓我們知道地圖上兩點間的實際距離。
- () 5. 在工商社會中，生活與工作的內容比過去農漁業社會單純。
- () 6. 農曆春節貼春聯，除了代表除舊布新的意義，也希望春聯上的吉祥話，能為新的一年帶來好運。
- () 7. 每個人的家鄉都有自己的風俗習慣和生活方式。
- () 8. 地圖大多以符號表示各實際景物，所以比起航空照片圖清晰很多。
- () 9. 傳統漁民會按照自己的興趣，決定出海的時間及捕撈的魚類。
- () 10. 臺南市白河區利用當地盛產的蓮花，舉辦「蓮花季」，以吸引遊客參觀。
- () 11. 農曆春節家家戶戶會在除夕夜前大掃除。
- () 12. 現在的社會缺乏分工，行業種類少，節日也較少。
- () 13. 中元節家家戶戶都會準備豐盛的祭品，普渡孤魂野鬼，充分表現博愛的精神。
- () 14. 早期原住民族沒有農民曆，所以沒有祭典或農事、漁獵等活動。
- () 15. 「日出而作，日落而息」，是指農民隨著日出到田裡工作，傍晚太陽下山後則回家休息。
- () 16. 彰化縣鹿港鎮的特產是蓮花，而有蓮花季文化活動。
- () 17. 我們應該要盡力保存家鄉優良傳統，發揚愛護情感，為家鄉注入新的生命力。
- () 18. 盧彥勳是我國的青年網球好手，其優異表現提高臺灣在國際的知名度。
- () 19. 只要用心經營，讓傳統生活與現代生活相結合，就能呈現家鄉的新風貌。
- () 20. 居住在臺灣的越南僑胞，為了一解鄉愁，會舉辦光明點燈節的相關慶祝活動。
- () 21. 在沒有方向標的地圖中，地圖通常畫有圖框，圖框的上方是南方。
- () 22. 將原本的阿美族豐年祭，結合環鎮自行車道和親水公園，是臺東縣關山鎮成為東臺灣著名休閒旅遊據點的主要原因。
- () 23. 現代的都市生活作息逐漸脫離自然的步調，比

傳統農村生活複雜許多。

- () 24. 國慶日就是國家的生日，在這一天，總統府前會舉辦各種慶祝活動。
- () 25. 早期漢人渡海來臺，主要從事商業活動。
- () 26. 政府為了宣揚敬老尊長的美德，將重陽節訂為老人節。
- () 27. 把文化活動融入傳統產業，為近年來傳統產業找到發展的新方向，例如：客家桐花祭。
- () 28. 為了紀念南丁格爾對護理工作的貢獻，人們便將她的生日訂為國際護師節。
- () 29. 為了紀念二二八事件受難家屬，政府設立和平紀念日，表達對罹難者的追思。
- () 30. 許多地方都有屬於當地人的生活方式，但是隨著社會的進步，傳統生活也慢慢在改變。
- () 31. 農曆春節時長輩會發壓歲錢給未成年的晚輩，有祈求歲歲平安之意。
- () 32. 行憲紀念日是受到外來文化的影響才有的節日。
- () 33. 在門口插艾草、榕枝以祈求平安，是清明節的主要活動。
- () 34. 元宵節是春節的第一天，所以又有『小過年』之稱。
- () 35. 比例尺  表示2公分代表實際距離100公尺。

二、選擇題(每題1分、共25分)

- () 1. 由於現代人的生活內容較多樣，因此可以利用下列何者妥善安排自己的生活？ ①聯絡簿 ②課本 ③報紙 ④行事曆。
- () 2. 下列何者有「一元復始」含義的節日？ ①中秋節 ②農曆春節 ③端午節 ④重陽節。
- () 3. 下列哪些是與職業有關的節日？ ①中秋節 ②端午節 ③開國紀念日 ④勞動節。
- () 4. 下列哪一個節日的傳統美食是粽子？ ①元宵節 ②端午節 ③清明節 ④中秋節。
- () 5. 下列何者不是航空照片圖的特色？ ①景物用符號表示 ②是從空中拍攝的照片 ③內容多而複雜 ④尋找特別的景物較困難。
- () 6. 小維畫一張學校附近的地圖，比例尺為 ，語維家到學校有100公尺遠，在地圖上的距離應是多少？ ①1公分 ②4公分 ③2公分 ④12公分。

- () 7. 小惠在看地圖時想要快速找到圖書館，她應該特別注意下列哪一項資訊？ ①圖例 ②圖名 ③比例尺 ④方向標。
- () 8. 關於過去和現代生活的敘述，下列何者錯誤？ ①過去的生活配合自然 ②過去人們週休二日，重視休閒生活 ③現代人們的工作內容較複雜 ④現代人們的生活較為複雜。
- () 9. 下列何者是現代節日所代表的正面意義？ ①反映家鄉社會多元的風貌 ②傳統的節日已經過時沒有意義 ③現代社會不重視個人的行業 ④現代節日比傳統節日來的重要。
- () 10. 關於傳統的生活方式，下列敘述何者正確？ ①傳統的生活步調配合自然，比較有規律 ②可以利用網路蒐集國內外資訊 ③傳統社會採用陽曆的星期制 ④傳統的生活比較緊張、複雜。
- () 11. 下列何者是母親節所代表的意義？ ①只要在這一天送媽媽貴重禮物 ②表達對母親的感謝 ③說明職業婦女的辛勞 ④鼓勵大家回家吃晚飯。
- () 12. 下列哪一個節日會舉行祭祖大典，祭拜祖墳與掃墓？ ①端午節 ②清明節 ③中元節 ④中秋節。
- () 13. 沒有方向標時，地圖中常畫有圖框，圖框的右方代表哪個方向？ ①東方 ②西方 ③南方 ④北方。
- () 14. 在現代，各種不同行業、人生階段與性別的人大多有屬於自己的節日，下列何者是這些節日的共同意義？ ①每個行業都很重要 ②每個人人生階段都很重要 ③不管什麼性別都很重要 ④以上皆是。
- () 15. 下列何者不是近年來政府實施週休二日制的優點？ ①工作五天就可以休息兩天 ②工廠作業員二十四小時運作，休息時間變少 ③工作與休閒相互調劑 ④讓休閒生活的內容更豐富。
- () 16. 下列何者是傳統生活與現代生活結合的方式？ ①把文化活動融入傳統產業 ②把傳統祭典和觀光資源結合在一起 ③把宗教活動和現代生活結合在一起 ④以上皆是。
- () 17. 透過傳統節慶的活動，我們可以體會到什麼？ ①只有吃喝玩樂，沒有什麼特色 ②先民敬天、惜物與愛人的生活智慧 ③傳統節慶的民俗活動，在現代生活中已完全消失 ④每個節日只是先民休息的時間，不具意義。
- () 18. 比例尺為  的地圖，下面哪一項敘述正確？ ①地圖上1公分的長度，代表實際距離是120公尺 ②地圖上1公分的長度，代表實際距離60公尺 ③實際距離是180公尺，在地圖上的長度是2公分 ④地圖上如甲地和乙地間距離5公分，實際上兩地相距60公分。
- () 19. 了解漢人按照農曆安排的傳統節慶，以及原住民族配合自然步調舉行的豐年祭、大獵祭等知識後，對我們有什麼意義？ ①可以當選模範生 ②體會先民流傳下來的敬天、惜物與愛人的智慧 ③可以當老師 ④從此放下課業，參加臺灣各地的節慶活動。
- () 20. 下列有關地圖的敘述，哪一項正確？ ①地圖上所有的地名都可以成為圖名 ②地圖上省去圖例也可以看得懂 ③在沒有方向標，但畫有圖框的地圖，上方為北方，下方為南方 ④製作地圖時，不畫比例尺，也能計算實際距離。
- () 21. 關於發展家鄉的新風貌，下列敘述何者正確？ ①將過去的老建築重新的規畫，發展成觀光區，就是方法之一 ②發展家鄉的新風貌是鄰里長的工作，大家不用太在意 ③發展家鄉的新風貌應該要將傳統文化全部排除 ④發展家鄉的新風貌必須以賺大錢為最重要的目的。
- () 22. 下列何者不是現代陽曆節日所要傳達的正面意義？ ①喚醒人們感受自己的重要性 ②表達社會對某些族群的關懷 ③說明每一種行業都值得選擇與投入 ④強調外來文化比本土文化好。
- () 23. 下列何者不是把家鄉的特產品融入文化產業的活動？ ①耶誕舞會 ②客家桐花祭 ③白河蓮花季 ④阿美族豐年祭。
- () 24. 關於現代節日的敘述，下列何者錯誤？ ①有些節日是受到外來文化的影響 ②各行各業大多有屬於自己的節日 ③告訴人們自己很不重要 ④可看出社會從傳統邁向現代的改變。
- () 25. 傳統的節日與現代的節日有什麼不同？ ①傳統節日會放假，現代節日不放假 ②傳統節日是農曆節日，現代節日還包括陽曆的節日 ③傳統節日比較沒意義，現代節日比較有意義 ④傳統節日比現代節日重要。

三、 填填看(每個答案 1 分，共 35 分)

- 下列哪些是漢人的傳統節日?請在□中打√。
①中秋節
②端午節
③農曆春節
④耶誕節
- 下列哪些學校或機構對於傳統文化的傳承有所幫助?請在□中打√。
①臺灣戲曲專科學校。
②新竹科學園區。
③臺南市林鳳國小扯鈴社。
④亦宛然布袋戲。
⑤鹿港民俗文物館。
⑥小金枝歌劇團。
- 下列節日中，何者屬於國家重要的節日?請在□中打√。
①開國紀念日。
②和平紀念日。
③國慶日。
④光明點燈節。
⑤行憲紀念日。
- 下列哪些屬於現代工商業社會的敘述?請在正確的□中打√。
①晚上有夜市。
②以農業耕作為主。
③工廠二十四小時作業。
④有便利的網際網路。
⑤通訊科技進步。
- 下列有關現代節日的敘述，何者正確?請在□中打√。
①會受到社會分工逐漸精細影響。
②會受到外來文化影響。
③大多按照陽曆安排。
④現代的節日比傳統節日重要。
- 下列哪些是屬於現代的節日?正確的請在□中打√。
①重陽節
②婦女節
③端午節
④中元節
⑤萬聖節
⑥軍人節
⑦行憲紀念日
- 原住民族有自己的節慶，請選出下列各族的主要慶典活動，將正確的代號填在()中。
甲、布農族 乙、阿美族 丙、卑南族
丁、排灣族

- () ①大獵祭
() ②五年祭
() ③豐年祭
() ④播種祭

四、 回答問題(每個答案 1 分，共 5 分)

- 農民曆記載了哪些資訊?請舉出二個例子說明。

答：①

②

- 請舉出 3 個根據農曆的傳統節日的正確日期。

答：①

②

③