

臺東縣關山鎮關山國民小學 104 學年度下學期期末評量試題

科目：數學科

版本：康軒

評量範圍：第 6~第 9 單元

命題者：李宛叡老師

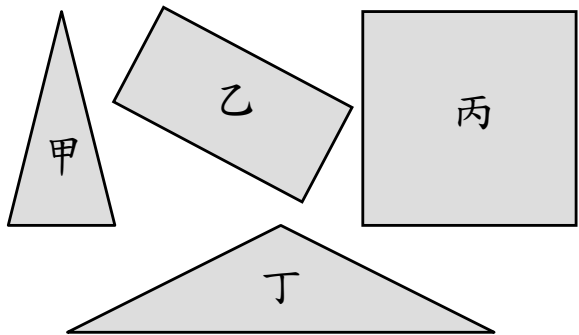
二年 _____ 班

座號：_____

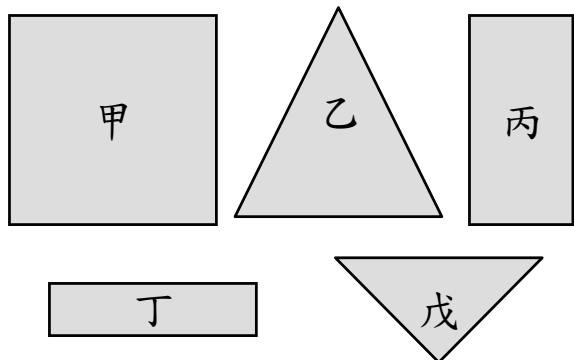
姓名：_____

一、圈出圈看 (每題 2 分、共 10 分)

1. 下面哪些圖形有 3 條邊? 圈出圈看。



2. 下面哪些圖形有 4 個角? 圈出圈看。




3. 圈出答案是 18 的算式。

3×8 , 3×6 , 2×9 , 5×4

6×4 , 4×8 , 8×3 , 4×6

4×5 , 6×3 , 9×2 , 6×2

4. 在圖中把角圈起來。



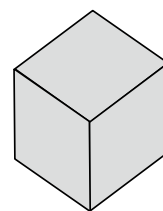
5. 在圖中把角圈起來。



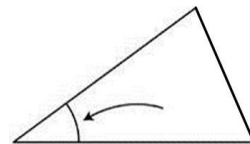
二、選擇題 (每題 1.5 分、共 15 分)

() 1. 民國 105 年是閏年, 所以 2 月有幾天? ① 28 天 ② 29 天 ③ 30 天 ④ 31 天

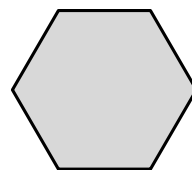
() 2. 圖中正方體有幾條邊? ① 9 條 ② 10 條 ③ 20 條 ④ 12 條




() 3. 圖中箭頭指的地方叫作什麼? ① 頂點 ② 邊 ③ 角 ④ 線



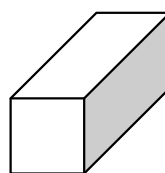
() 4. 圖中圖形有幾條邊? ① 5 條 ② 6 條 ③ 8 條 ④ 10 條



() 5. 圖中圖形有幾個頂點? ① 5 個 ② 6 個 ③ 7 個 ④ 8 個



() 6. 圖中形體的名稱是什麼? ① 正方形 ② 正方體 ③ 長方形 ④ 長方體



() 7. 想一想，生活中哪一種物品是正方體？

- ①方糖 ②籃球 ③吸管 ④碗

() 8. 哥哥在 6 月 21 日借書，只能借 3 天，他最晚在幾月幾日要歸還？ ①6 月 25 日 ②6 月 23 日

- ③6 月 22 日 ④6 月 24 日

() 9. 一張貼紙 10 元，阿龍買了 4 張，一共要多多少元？ ①40 元 ②10 元 ③14 元 ④104 元

() 10. 16 個雞屁股，每 4 個串成一串，共可串成幾串？ ①5 串 ②4 串 ③6 串 ④3 串

三、填填看看 (每格 1 分、共 20 分)

1. (1) $10 \times 2 = (\quad)$

(2) $1 \times 4 = (\quad)$

(3) $0 \times 3 = (\quad)$

2. 一星期有 () 天。

3. 一年的第一天是 () 月 () 日。

4. 一年的最後一天是 () 月 () 日。

5. 三月有幾天？ () 天

6. 九月有幾天？ () 天

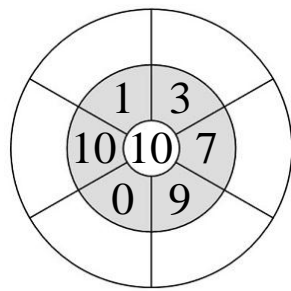
7. 七月有幾天？ () 天

8. 36 枝鉛筆平分給 9 人，每人可以分到 () 枝。

9. 姊姊這個星期六租了「動物方程式」，從開始租的那一天算起，可以一看四天，最晚下個星期 () 要還。

10. 一本筆記本 10 元，小杰買了 3 本，共要 () 元。

11. 最中間的數乘以第二圈的數，把乘出來的結果填在最外圍。



四、看圖回答问题 (每格 1 分、共 32 分)

1. 台東縣從 4 月 23 日開始主辦全國中等學校運動會，比賽期間共 6 天，最後一天是 () 月 () 日。

4 月						
日	一	二	三	四	五	六
					1	2
3	4	5	6	7	8	9
10	11	12	13	14	15	16
17	18	19	20	21	22	23
24	25	26	27	28	29	30

2. 2016 島嶼音樂季從 6 月 10 日開始舉行，活動持續了一個星期又 2 天，結束時是 () 月 () 日。

6 月						
日	一	二	三	四	五	六
			1	2	3	4
5	6	7	8	9	10	11
12	13	14	15	16	17	18
19	20	21	22	23	24	25
26	27	28	29	30		

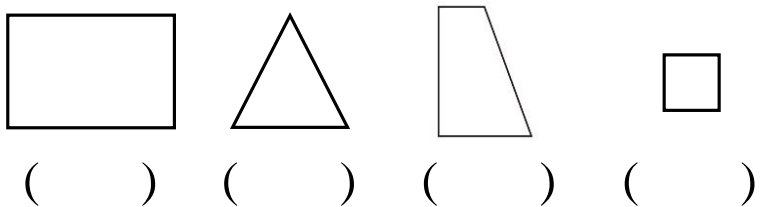
3. 「2016 臺灣國際熱氣球嘉年華」將於 7 月 1 日鹿野高台登場，活動持續到 8 月 7 日結束，一共舉辦了 () 天。

7 月						
日	一	二	三	四	五	六
					1	2
3	4	5	6	7	8	9
10	11	12	13	14	15	16
17	18	19	20	21	22	23
24	25	26	27	28	29	30
31						

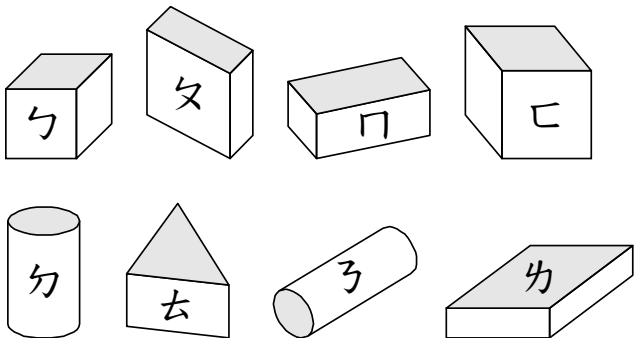
8 月						
日	一	二	三	四	五	六
	1	2	3	4	5	6
7	8	9	10	11	12	13
14	15	16	17	18	19	20
21	22	23	24	25	26	27
28	29	30	31			

4. 是「正方形」的畫「○」，是「長方形」的打「√」，是

「正三角形」的畫「△」，都不是的打「×」。

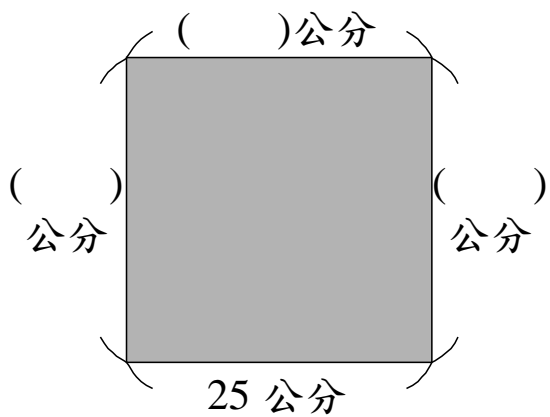


5.

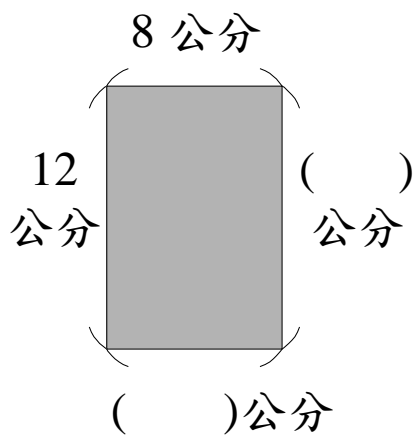


上面「形體」中，()、()和()是「長方體」；()和()是「正方形體」。(填入代號)

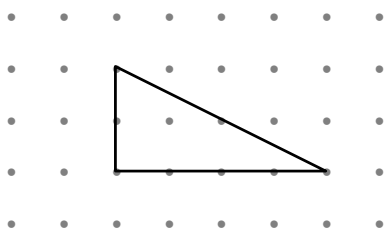
6. 下圖是一個正方形，想一想，填填看。




7. 下圖是一個長方形，想一想，填填看。



8. 圖中有()條邊、()個角和()個頂點。




9. 看圖寫出兩種不同的乘法算式，並填上答案。



(1) () × () = ()

(2) () × () = ()

10. 分一分，填填看。



(1) 平均分給 3 人，每人可以得()隻。

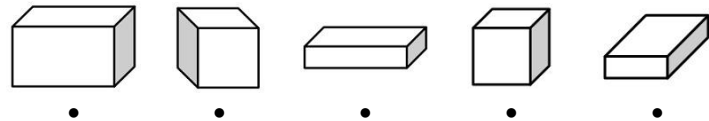
(2) 平均分給 4 人，每人可以得()隻。

(3) 平均分給 6 人，每人可以得()隻。

(4) 平均分給 8 人，每人可以得()隻。

五、連連看 (每條 1.5 分、共 12 分)

1. 想一想，連連看。



長方體

正方形

2.

3×6

6×2

6×4

9×2

3×4

3×8

六、計算題（每題2分、共6分）

1. 算一算，並用直式記記看。

$$7 \times 8 = (\quad)$$

2. 算一算，並用直式記記看。

$$3 \times 9 = (\quad)$$




3. 算一算，並用直式記記看。

$$9 \times 6 = (\quad)$$

七、應用題（每小題2.5分、共5分）

1. 小志想买一塊橡皮擦和3把直尺，

他一共要付多少元？

種類			
單價(元)	18	10	6

2. 皓皓買了1瓶飲料和4枝冰淇淋，

一共要付多少元？

