

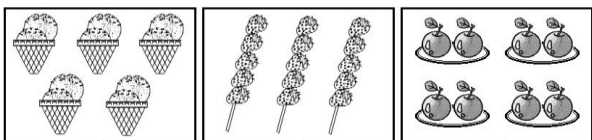
臺東縣關山鎮關山國民小學 105 學年度上學期期末評量試題

科目：數學科 版本：康軒版第三冊 評量範圍：第六單元~第十單元

命題者：陳怡君老師 二年____班 座號：____ 姓名：_____

一、連連看(共 22 分)

1. 把答案不一樣的地方連起來：



5有3個 $2+2+2+2$ 2的5倍

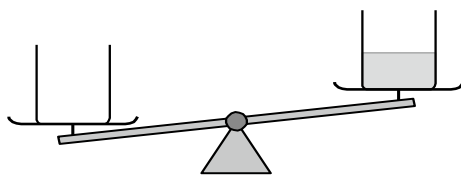
2×4 5×3 2×5

2. 把答案不一樣的地方連起來：


① 2的5倍	ㄅ 5有3個
② 5有5個	ㄆ $2+2+2+2+2$
③ 2×4	ㄇ $5 + 5$
④ 5×2	ㄏ 5×5
⑤ $5 + 5 + 5$	ㄏ 2有4個

二、畫畫看，做做看(共 8 分)

1. 將左邊的空杯子畫上可能的水量。



2. 1隻蜻蜓有4片翅膀，4隻蜻蜓有()片翅膀。(要畫出來)



用連加算式記記看：
()

三、選擇題(共 14 分)

1. () 小狗一天吃三餐，一星期共吃幾餐？

- ① 20 餐 ② 21 餐 ③ 14 餐 ④ 17 餐

2. () 下面哪一種是容器？

- ① 橡皮擦 ② 水桶 ③ 尺 ④ 時鐘

3. () 將籃球、排球和網球放在天平上比一比，已知籃球比排球重，排球比網球重，哪一個最輕？

- ① 網球 ② 排球 ③ 籃球

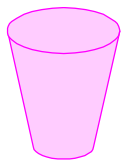
4. () 兩個一樣重的黏土，一個保持原狀放在天平的一邊，一個分成兩半放在天平的另一邊，結果會如何？

- ① 原狀的那一邊比較重 ② 分成兩半的那一邊比較重 ③ 一樣重

5. () 下面哪一個杯子可以裝水？



甲杯



乙杯

- ① 甲杯 ② 乙杯 ③ 都可以

6. () 書架上原有 99 本書，先拿走 49 本，又拿走 19 本，現在書架上大約剩下幾本書？
 ① 10 本 ② 20 本 ③ 30 本

7. () 學校訂購了 36 瓶綠茶、45 瓶果汁和 29 瓶汽水，學校共訂購了幾瓶飲料？
 ① 100 瓶 ② 110 瓶 ③ 120 瓶

四、圖圖看看(共 8 分)

1. 圈看看，哪個杯子裝的水比較多？

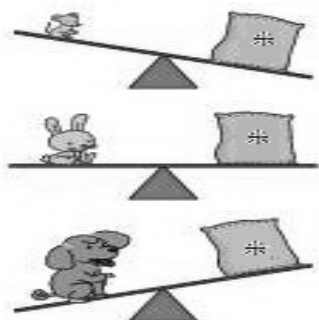
(1)



(2)



2. 看看圖，看看：

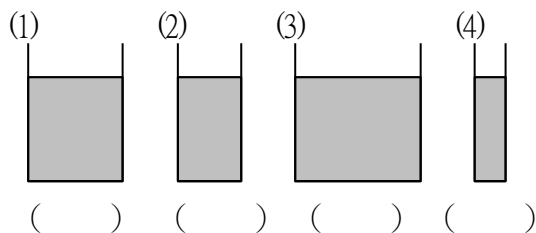


(1) 體重最重的是 (老鼠 兔子 小狗)


(2) 體重最輕的是 (老鼠 兔子 小狗)

五、填填看看(共 30 分)

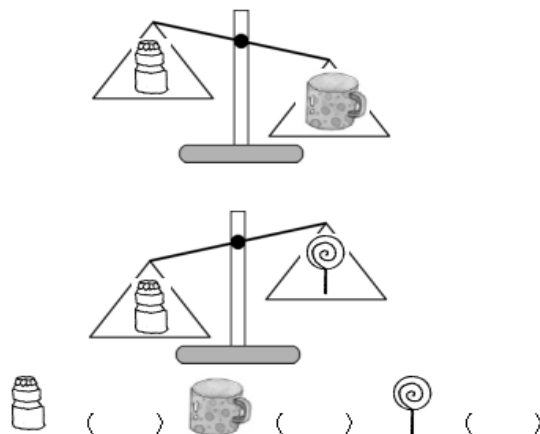
1. 按照杯子的裝水量，由多到少依序在 () 裡填入 1~4：



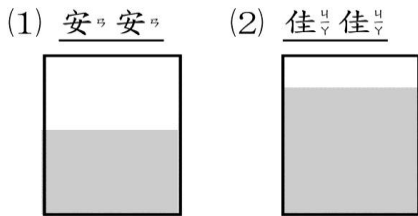
2. 一個蘋果和一杯水一樣重，將蘋果切成 4 片後，對的在 中打 ：



3. 比比看看，將下面三種物品由重到輕在 中填入 1、2、3：



4. 「 3×6 」比「 3×9 」少()個3。
5. 「7的8倍」比「7的5倍」多()。
6. 兩個相同的杯子裝滿水後，安安和佳佳分別喝了一些，剩下安安的水如下圖：



誰喝的水比較多？ ()

7. 比一比，在()裡填入

$>$ 、 $<$ 或 $=$ ：(每格一分)

- (1) 8×2 () 14 (5) 6×3 () 24
 (2) 2×9 () 21 (6) 9×4 () 6×6
 (3) 4×8 () 8×4 (7) 63 () 9×9
 (4) 40 () 5×8 (8) 6×4 () 3×8

六、寫出算式和答案(共18分)

1. 1盒柿子有9個，爸爸買3盒，共有幾個柿子？用乘法算式做做看。

答：()個

2. 媽媽買了7捆衣架，一捆衣架有8個，共有幾個衣架？用乘法算式做做看。

答：()個

3. 影印機裡有99張白紙，影印用去37張後，再放進38張，影印機裡會剩幾張白紙？

答：()張

4. 一杯咖啡賣50元。叔叔買了3杯，要付幾元？

答：()元

5. 姐姐有60元，哥哥的錢比姐姐的錢少15元，兩人共有多少元？

答：()元

6. 阿姨有兩本貼紙簿，第一本收集了37張貼紙，第二本比第一本多收集了28張貼紙，阿姨的兩本貼紙簿總共收集了幾張貼紙？

答：()張