

四年 班

座號： 姓名：

一、比比看：(每個答案 2 分，共 10 分)

1. 哪個體積比較大？在□裡打√。



2. 比比看，在□裡填入>、<或=。

- (1) 12844821 □ 12484821  
 (2) 9000009 □ 10000001

3. 比比看，在□裡填入>、<或=。

- (1) 3641909 □ 2642000  
 (2) 9090909 □ 9999999

二、填填看：(每個答案 1 分，共 16 分)

1. 有 80 元，每人分 20 元，可以分給幾人？

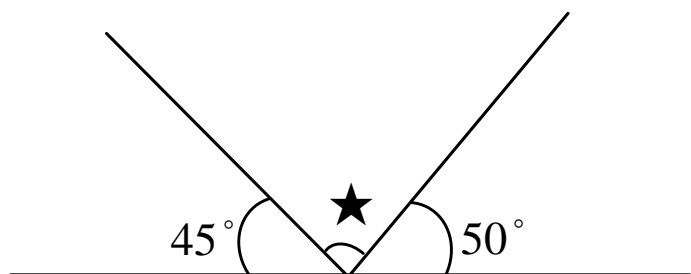


$8 \div 2 = ( \quad )$   
 $80 \div 20 = ( \quad )$   
 答：( ) 人

2. 8 個 10000000 合起來是( )，  
 讀作( )。
3. 78015062 的千位數字是( )，萬位數字是( )，  
 百萬位數字是( )。
4. 下列每一個數中的「5」分別表示多少？  
 (1) 5249300 → ( )  
 (2) 41052768 → ( )  
 (3) 87512340 → ( )
5. 指針從 1 順時針方向轉到 5，是轉了( )度。  
 6. 指針從 12 逆時針方向轉到 10，是轉了( )度。  
 7. 寫出正確的讀法。  
 (1) 800710 → ( )  
 (2) 1009606 → ( )  
 (3) 50407010 → ( )

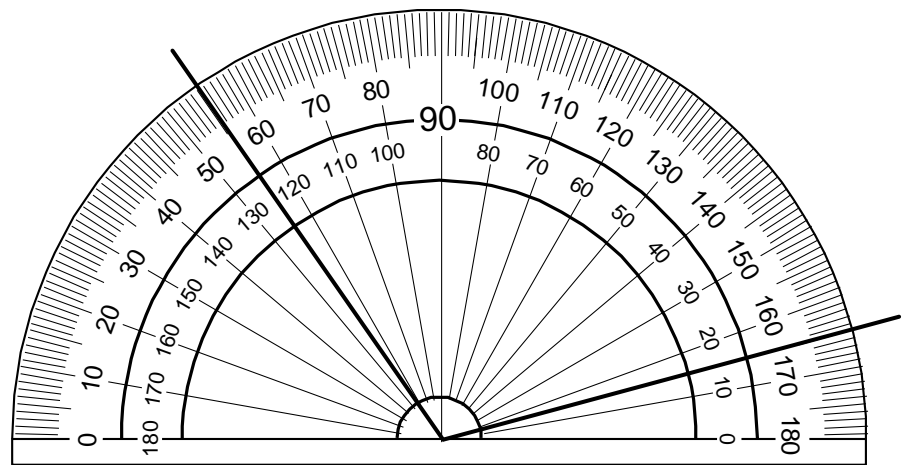
四、畫畫看，量量看，算算看：(每個答案 2 分，共 10 分)

1. 算算看，「★」的角度是多少？



答：( ) 度

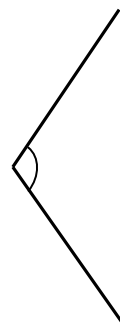
2. 下圖中的角是多少度？ ( ) 度



3. 畫出指定度數的角。145 度

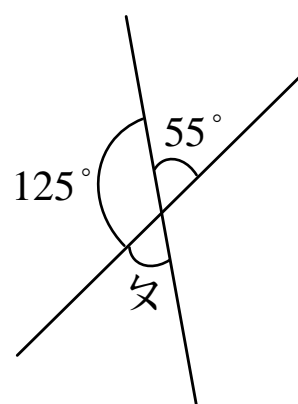


4. 量量看，下面的角是幾度？



( ) 度

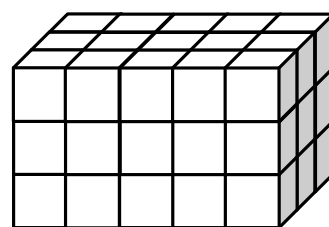
5. 下圖中，∠x 是多少度？



答：( ) 度

三、看圖回答問題：(每個答案 2 分，共 16 分)

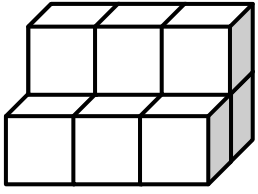
1. 一個□是 1 立方公分。



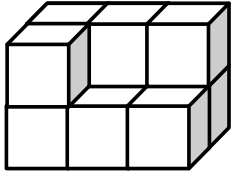
( ) 立方公分

2. 一個  $\square$  是 1 立方公分，下面形體各是多少立方公分？把它們的體積由大到小排出來，並將代號填入適當的括弧中。

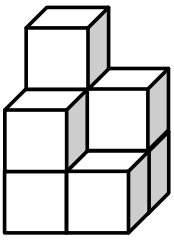
甲：( ) 立方公分



乙：( ) 立方公分

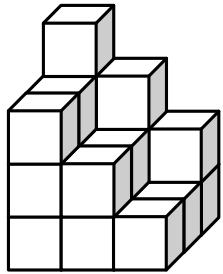


丙：( ) 立方公分



答：( ) > ( ) > ( )

3. 一個  $\square$  是 1 立方公分。



答：( ) 立方公分

五、計算題：(每題橫式答案 1 分，直式 2 分，共 24 分)

1.  $602 \text{ 萬} - 59 \text{ 萬} = ( \quad )$

2.  $379 \times 45 = ( \quad )$

3.  $600 \times 42 = ( \quad )$

4.  $654 \div 80 = ( \quad )$

5.  $48 \div 70 = ( \quad )$

6.  $76 \times 609 = ( \quad )$

7.  $605 \div 70 = ( \quad )$

8.  $270 \times 60 = ( \quad )$

六、應用題：(每題 3 分，共 24 分)

1. 臺灣地區 105 年 10 月的人口數，男生約有 1169 萬人，女生約有 1171 萬人，男、女生約相差多少人？

2. 一天有 24 小時，平年一年共有多少小時？(平年一年有 365 天)

3. 台東縣體育場舉辦國小聯合運動大會。休息區的座位有 258 排，每排可以坐 36 人，全部坐滿可以坐滿多少人？

4. 媽媽幫小芳買了一件 190 元的短裙，又買了一件洋裝，洋裝的價錢是短裙的 26 倍，媽媽買短裙和洋裝一共要多少元？

5. 四年孝班舉行同樂會，買點心花了 562 元，飲料花了 334 元。費用由全班 32 個小朋友平均分擔，每人要出多少元？

6. 某數用 26 來除，所得的商數是 18，餘數是 15。某數是多少？

7. 把 740 顆糖果平分裝成 37 袋，一袋最多可以裝幾顆？還剩下幾顆糖果？

驗算：



8. 105 學年度全國國小學生大約共有 130 萬人，其中視力不良的男生約有 32 萬人，女生約有 30 萬人。  
(1) 視力不良的學生大約共有多少人？  
(2) 視力不良的男生和女生約相差多少人？