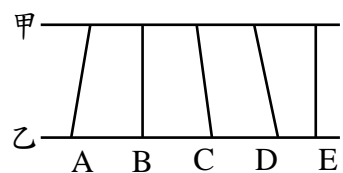


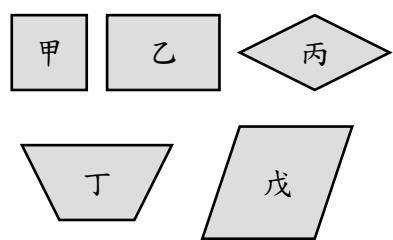
一、填填看：每格1分，共50分

- 「20.05」讀作()。
- 7.09的個位數字是()、百分位數字是()、十分位數字是()。
- 5公尺9公分=()公尺。
- 用「數的十進位表示法」記記看
983.67=()
- 用數字寫出來
(1)三十億零九萬零二()
(2)二十兆九千萬()
- 寫出下面各數的讀法。
(1)540002000→()
(2)79300057000→()
(3)9200000000000→()
- 「6346000」前面的6是()，後面的6是()；
前面的6是後面6的()倍
- 2公里12公尺=()公尺
- 小廷的身高是1.5公尺，也可以說是()公尺
()公分。
- 3080公尺=()公里()公尺
- ()→0.42→0.46→()
- 由大到小排出來。(填代號)
甲：5公里32公尺
乙：582公尺
丙：4公里632公尺
丁：30122公尺

- () > () > () > ()
13. 甲、乙兩條平行直線間的距離是線段()和()。

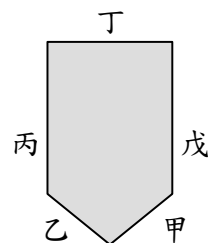


15. 用代號回答問題。



- 只有一雙對邊互相平行的圖形是()。
- 兩雙對角分別一樣大的圖形是()、()、()和()。
- 4條邊都一樣長的是哪些圖形?()、()
- 有4個直角的圖形是()()。
- 兩雙對邊互相平行的是圖形()、()、()和()。

- 16 如圖，由甲~戊五條線段組成的圖形。



- 哪兩條線段互相垂直?
()與()、()與()
- 哪兩條線段互相平行?()與()
- 接第(2)題，這兩條平行線段間的距離，就是()線段的長度。

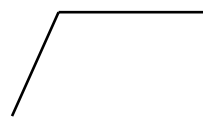
14. 在□裡填入>、<或=。

- 47.9 □ 47.19
- 12.2 □ 12.21
- 7公尺5公分 □ 7.5公尺

二、畫畫看：每題2分，共6分

(請畫出垂直線並做出垂直記號)

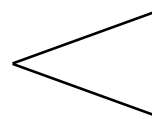
- 1 以黑線為四邊形的兩邊，畫出一個梯形。



- 2 以黑線為四邊形的一邊，畫出一個平行四邊形。



- 3 以黑線為四邊形的兩邊，畫出一個菱形。



三寫成直式算算看：每題2分，共16分

1. 2億147萬 + 9890萬

2. $200 \div (16 + 34)$

3. 9億 - 998萬

4. 5公里8公尺 $\div 4 = (\quad)$ 公尺

5. $852 + 123 \times 4$

6. $872 \div 8 + 302$

7. 3053公尺 + 2公里5公尺 =

8. 9公里607公尺 $\times 6 =$

四. 寫出作法和答案：每題4分，共28分

(1) 500公克的玉米粉，每25公克裝成一袋，賣掉12袋後，還剩下多少袋？

(2) 蘋果3公斤賣165元，香瓜1公斤賣35元。1公斤蘋果比1公斤香瓜貴多少元？

(3) 工人花了9天修築長18公里9公尺的道路，平均每天修多少公里多少公尺？

(4) 天王星到太陽的距離大約是28億7503萬公里，木星到太陽的距離大約是7億7830萬公里，木星到太陽的距離比天王星到太陽的距離大約少幾公里？

(5) 麗芳在800公尺的跑道上跑了8圈，一共跑了多少公里多少公尺？

(6) 某航空公司去年的營業總額是3548250000元，今年的營業總額是4087000000元，兩年的營業總額一共是多少元？

(7) 芳瑜與哥哥和姐姐共3個人，每人出99元買媽媽的生日禮物，結果錢不夠，每個人還要再出10元才夠，這份生日禮物要多少元？