

三年__班

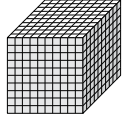
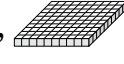

座號：_____ 姓名：_____

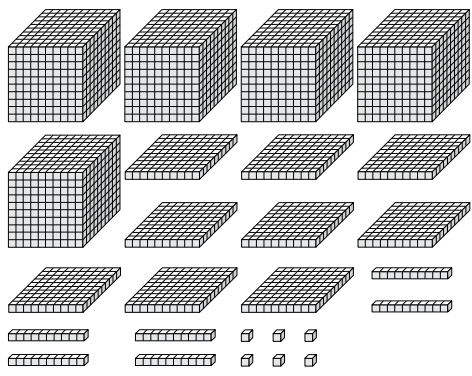
一、選擇題：(每個答案 2 分，共 20 分)

①738 公尺 ②884 公尺 ③964 公尺 ④984 公尺

- () 1. 個位數字是 5，十位數字是 6，千位數字是 3 的四位數可能是多少？
 ① 3056 ② 3065 ③ 5603 ④ 5630

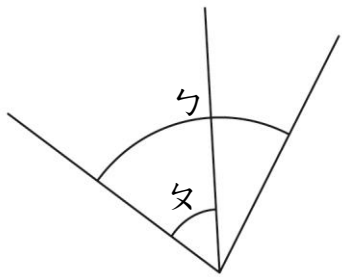
- () 2.

 是由 1000 個小排成的， 是由 100 個小排成的， 是由 10 個小排成的。數數看，下圖共有多少個小？



- ① 5866 個 ② 5966 個 ③ 8565 個 ④ 9566 個

- () 3. 下面哪一個角比較大？




- ① \angle ㄅ ② \angle ㄆ ③ 一樣大 ④ 無法判斷

- () 4. 均豪每星期存 145 元，4 星期存了多少钱？
 ① 780 元 ② 850 元 ③ 580 元 ④ 980 元

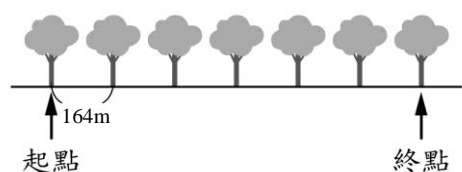
- () 5. 10000 往前數 100 是多少？
 ① 9999 ② 9990 ③ 9900 ④ 9000

- () 6. 在圓圈外部的心，一共有幾個？
 ① 6 個 ② 5 個 ③ 4 個 ④ 3 個

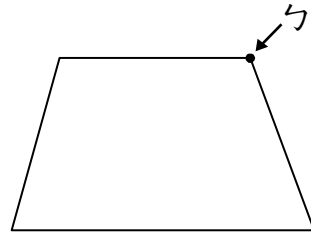


- () 7. 小強到唱片行買了一些 CD，一共是 1348 元，付一張二千元的鈔票，找回多少元？
 ① 652 元 ② 642 元 ③ 632 元 ④ 622 元

- () 8. 如圖，相鄰 2 棵樹之間的距離都相同，從起點到終點全長是多少公尺？



- () 9. ㄅ 部位的正確名稱是什麼？

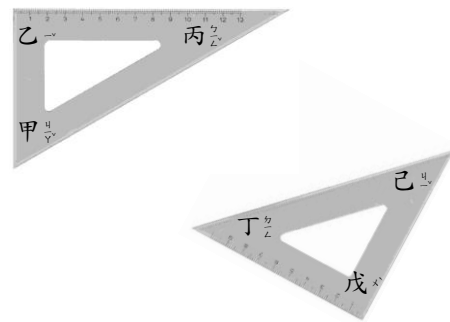


- ① 角點 ② 角 ③ 頂點 ④ 邊點

- () 10. 一盒太陽餅賣 250 元，一盒香蕉派賣 300 元。嘉宏買了 7 盒太陽餅，總共要付多少元？
 ① 1750 元 ② 2100 元 ③ 2350 元 ④ 3850 元

二、填填看：(每個答案 2 分，共 30 分)


1. 下面的三角板中，哪些是直角？()



2. 用阿拉伯數字記記看。

六千零五十九 ()

3. 連連看 (本題 4 分，每線 1 分)



比直角大

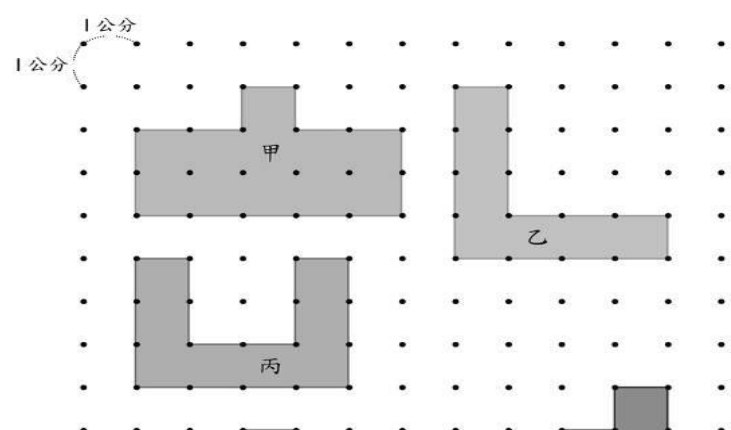
和直角一樣

比直角小

4. 把圖形四周描下來的線就是圖形的

()

5. 下面圖形各的周長各是多少公分？



(1) 甲圖形的周長是 () 公分。

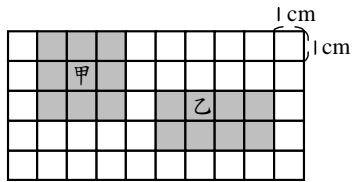
(2) 乙圖形的周長是 () 公分。

(3) 丙圖形的周長是 () 公分。

6. 用 6、8、0、3 排成的四位數中，最大的數是 ()，最小的數是 ()。

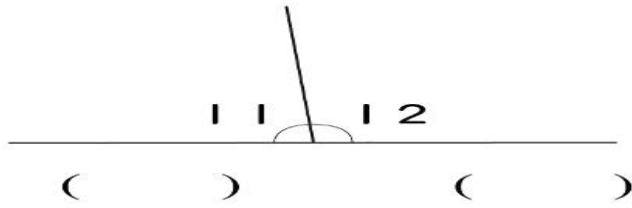
7. 正確的讀法：6908 → ()。

8. 看圖回答問題。



甲圖形是()形，乙圖形是()形。

9. 哪個角比較大？在()裡打√。



10. 在□中的數字可能有多少？全部寫出來。

$55□9 < 5529$ ，□：()。

三、用直式算算看：(每題2分，共12分)

1. $367 \times 5 = ()$

2. $1430 + 1549 = ()$

3. $907 \times 9 = ()$

4. 直式算算看並驗算，3分(驗算1分)

$1234 + 1771 = ()$ 驗算：

5. 直式算算看並驗算，3分(驗算1分)

$6200 - 1203 = ()$ 驗算：

四、按照順序填填看：(每格1分，共6分)

1. $3225 \rightarrow 3215 \rightarrow () \rightarrow () \rightarrow 3185$

2. $3205 \rightarrow 4205 \rightarrow () \rightarrow 6205 \rightarrow ()$

3. $2000 \rightarrow () \rightarrow () \rightarrow 1970 \rightarrow 1960$

五、應用題：(每題4分，共28分)

1. 一本書有700頁，小睿一天能讀70頁，連續讀了7天，一共讀完了幾頁？可以讀完嗎？

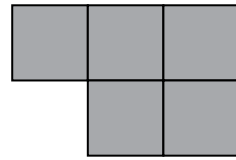
2. 新學期從9月1日到明年1月20號，請問這個學期總共有幾天？

3. 爸爸買了一套百科全書3460元，一組樂高積木1350元，他一共花了多少元？

4. 校慶時，每間教室外面掛15顆氣球，一層樓有8間教室，4層樓共需要幾顆氣球？

5. 翔翔有3張1000元和5張100元，小志有2張1000元和1張100元，兩人共有多少元？

6. 下圖是用相同的小正方形拼成的，小正方形拼布的一邊長是5公分，它的周長是多少公分？



7. 動物園的門票一張356元，爸爸、媽媽各買4張門票，一共要付多少元？

六、畫畫看：(每題1分，共4分)

把下列4個圖形的周界用筆描下來。

