

臺東縣關山鎮關山國民小學 104 學年度下學期期中評量試題

科目：數學科

版本：康軒

評量範圍：第 1、2、3、5 單元

命題者：李宛叡老師


二年 _____ 班

座號：_____


姓名：_____

一、圈出看 (每小題 1.5 分、共 4.5 分)

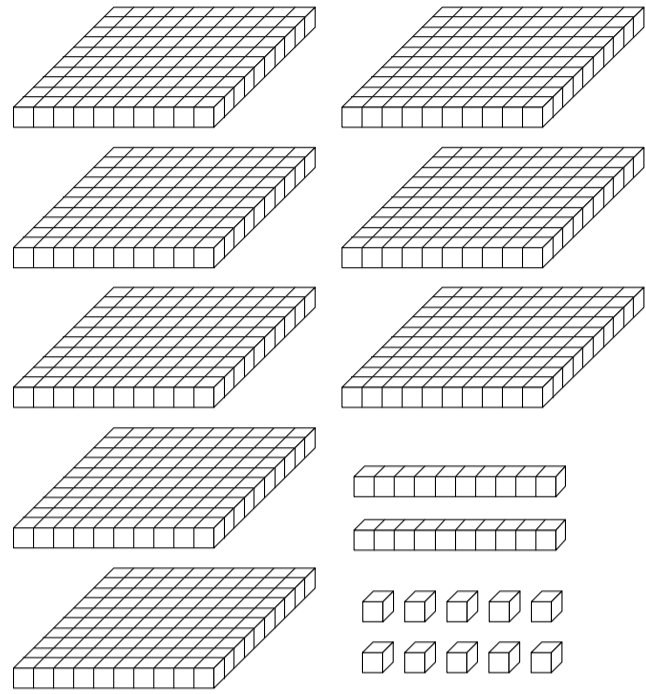
1. 圈出 365 個正方形小積木。



2. 圈出 208 個正方形小積木。



3. 圈出 610 個正方形小積木。



二、畫畫看 (每小題 1.5 分、共 7.5 分)

1. 用 $\boxed{100}$ 、 $\textcircled{10}$ 或 $\textcircled{1}$ 畫畫看。

234 元

2. 用 $\boxed{100}$ 、 $\textcircled{10}$ 或 $\textcircled{1}$ 畫畫看。

360 元

3. 用 $\boxed{100}$ 、 $\textcircled{10}$ 或 $\textcircled{1}$ 畫畫看。

508 元

4. 阿西買下這本字典，要付多少元？用

$\boxed{100}$ 、 $\textcircled{10}$ 或 $\textcircled{1}$ 畫畫看。



168 元

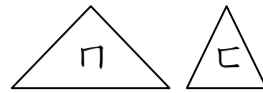
5. 阿龍買了這個小小兵娃娃，要付多少元？用 $\boxed{100}$ 、 $\textcircled{10}$ 或 $\textcircled{1}$ 畫畫看看。



三、選擇題 (每小題 1.5 分、共 12 分)

- () 1. 1 公尺也就幾公分？
 ① 10 公分 ② 1 公分 ③ 100 公分
 ④ 50 公分
- () 2. 生活中，哪些東西的實際長度會比 1 公尺短？
 ① 數學課本的長 ② 一枝鉛筆的長 ③ 一把剪刀的長 ④ 以上都比 1 公尺短
- () 3. 生活中，哪些物品可能比 1 公尺長？
 ① 彩色筆 ② 剪刀 ③ 衛生紙 ④ 跳繩
- () 4. 220 公分也就幾公尺幾公分？
 ① 20 公尺 20 公分 ② 2 公尺 2 公分
 ③ 22 公尺 10 公分 ④ 2 公尺 20 公分
- () 5. 比一比， ㄅ 和 ㄆ 哪一個圖形的面積比較大？
 ① ㄅ ② ㄆ ③ 一樣大 ④ 不能比較
-
- () 6. 比一比， \square 和 \square 哪一個圖形的面積比較大？
 ① \square ② \square ③ 一樣大 ④ 不能比較

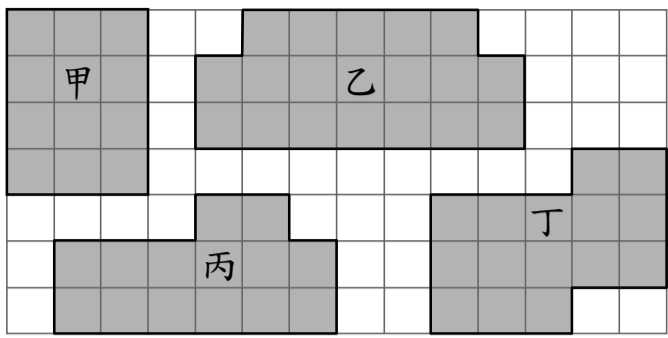
較



- () 7. 比一比，下面選項中的生活物品，哪一個的面積最小？
 ① 聯絡簿的封面 ② 一張圖畫紙
 ③ 一張 100 元鈔票 ④ 一張郵票
- () 8. 生活中，下面哪樣東西的面積最大？
 ① 一張壁報紙 ② 一張衛生紙
 ③ 一樣大 ④ 無法比較

四、填填看看 (每格 1.5 分、共 37.5 分)

1. 「三百零九」用阿拉伯數字記作 ()。
2. 「418」讀作 ()。
3. 按照順序填填看看。
 994 → 995 → 996 → () → 998 → 999 → ()
4. 752 可分成 () 個百、() 個十和 () 個一。
5. 906 可分成 () 個百、() 個十和 () 個一。
6. 4 個百、5 個十和 6 個一合起來是 ()。
7. 8 個百、0 個十和 3 個一合起來是 ()。
8. 9 公尺 93 公分 = () 公分
9. 5 公尺 50 公分 = () 公分
10. 380 公分 = () 公尺 () 公分
11. 606 公分 = () 公尺 () 公分
- 12.



(1) 上面圖形的各和幾個 合起來一樣大?

甲： 個 ；乙： 個 ；丙： 個 ；丁： 個 。

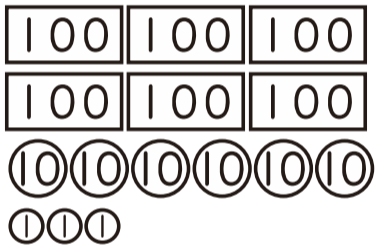
(2) 哪個圖形的面積最大？()

哪個圖形的面積最小？()

(3) 最大和最小圖形的面積，相差 個 。

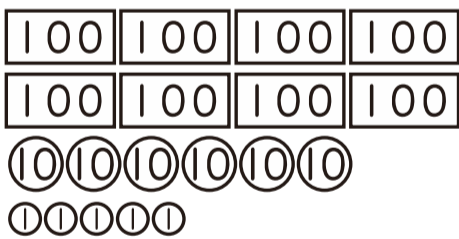
五、看圖回答問題 (每格 1.5 分、共 4.5 分)

1. 如圖，一共有多少元？




() 元

2. 如圖，一共有多少元？



() 元

3. 下面一共和幾個 一樣多？



() 個

六、比一比，在 裡填入 >、< 或 =。

(每題 1.5 分、共 12 分)

(1) $649 \square 435$

(2) $337 \square 327$

(3) $807 \square 870$

(4) $577 \square 600$

(5) $359 \square 395$

(6) $492 \square 942$

(7) $110 \square 100$

(8) $727 \square 772$

七、計算題 (每題 2.5 分、共 10 分)

(1) $317 + 41 = ()$

(2) $479 + 183 = ()$

(3) $568 - 123 = ()$

(4) $674 - 383 = ()$

八、應用題 (每小題 3 分、共 12 分)

1. 關山國小二年級有 52 人，三年級的人數比二年級多 8 人，三年級共有多少人？

2. 哥哥有 265 張遊戲王卡，阿龍有 121 張，兩人相差多少張？

3. 媽媽去全聯買了一串衛生紙 125 元，
還買了一罐鮮奶 69 元，她一共花了
多少元？

4. 長髮公主的頭髮長 195 公分，剪掉
78 公分後，還剩下多少公分？