

臺東縣關山鎮關山國民小學 104 學年度下學期期中評量試題

科目：數學科 版本：康軒版第二冊

評量範圍：第一單元~第四單元

命題者：陳怡君老師 一年____班

座號：_____ 姓名：_____

一、圈出圈出看，填填填看 (共 37 分)

1. 把答案為 13 的算式圈起來。

$3+10$ $5+8$ $6+7$

$8+4$ $9+4$ $7+8$

2. 把被加數是 7 的加法算式圈起來。

$6+7$ $7+2$ $3+7$

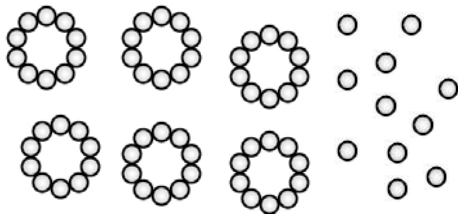
$7+7$ $7+5$ $7+1$

3. 比一比，最大的數打○，最小的數打×



4. 數數看，有幾個十和幾個一

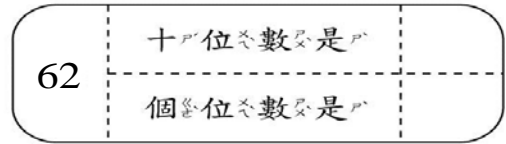
一？合起來是幾多？



有()個十和()個一，

合起來是()。

5. 填填看。



6. 把 10 個、10 個圈在一起，

再數一數，一共有多少個

星星？ 答：()個



7. 玩碰碰車時，安安排在第 85

個，平平排在第 88 個，誰會

先坐到碰碰車？()

8. 有 23 顆蘋果，25 個小朋友

一人分 1 顆，蘋果夠不夠？

()

9. 按照順序填填看

$3-13-23-()-()$

$50-()-60-65-()$

$10-()-30-40-()$

10. 79 是由()個十和()個

一合起來的。

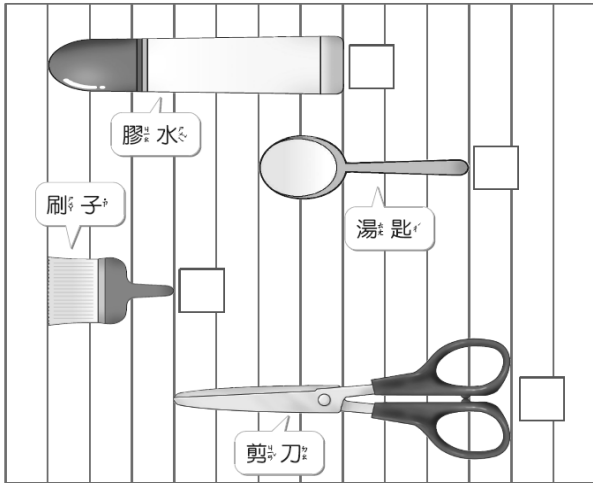
11. 寫出 2 個比 66 大的數：

() ()。

12. 比比看，由長到短在 中

填入 1、2、3、4，並看圖回答

問題：



(1) 刷子和剪刀相差 ()

個格子的高度。

(2) 膠水和湯匙合起來的長，和 () 個格子一樣長。

(3) 膠水比刷子長 ()

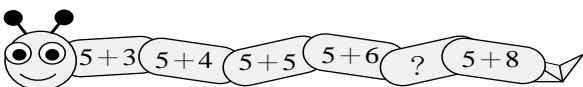
個格子。

(4) 湯匙比剪刀短 ()

個格子。

二、看圖回答問題 (共 18 分)

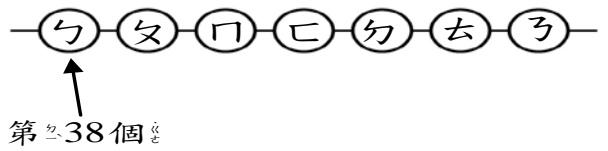
1.



? 應該填上哪一個算式?

()

2



(1) 第 40 個是 ()。

(2) 匸排在第 () 個，排在它前面第 2 個的是 ()。

(3) 夕排在第 () 個，排在它後面第 2 個的是 ()。

3 看圖寫出算式。

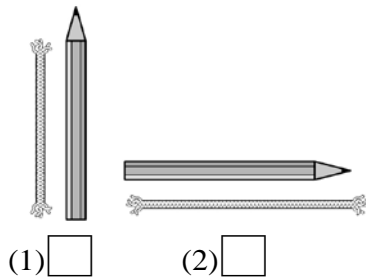


1 個書裡放 1 枝筆，不夠幾枝?

() - () = ()

三、勾選問題 (共 4 分)

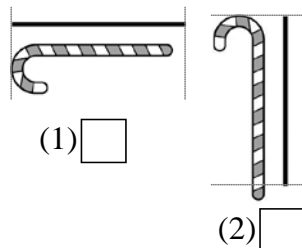
1. 用一樣長的鉛筆比比看，哪一條繩子比較長? 在 裡打 \checkmark 。



(1)

(2)

2. 用黑線比一比，哪一支拐杖糖比較短? 在 裡打 \checkmark 。



(1)

(2)

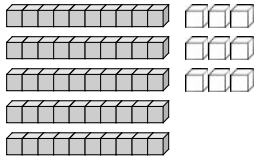
四、連字連看 (共 26 分)

1. 把答案不一樣算式連起來。

$9+6$	$7+8$
$9+5$	$5+7$
$5+6$	$7+7$
$6+6$	$2+9$

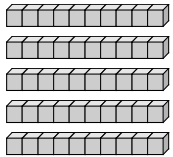
2.

①



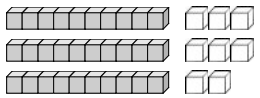
• 38

②



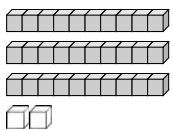
• 59

③



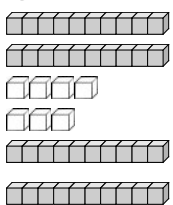
• 50

④



• 47

⑤



• 32

3.

- (1) 86 的個位數字。 . 8
- (2) 68 的個位數字。 . 6
- (3) 76 的十位數字。 . 9
- (4) 97 的十位數字。 . 7

五、寫出算式和答案 (共 15 分)

1. 班上共有 9 個女生，男生比女生多 6 個人，男生有幾個？

答：() 人

2. 籃球場和山山 18 步一樣長，山山已經走了 9 步，還要再走幾步才能走完？

答：() 步

3. 東東借了 5 本書，軒軒借的書比東東多 8 本書，軒軒借了幾本書？

答：() 本

4. 教室有 16 個小朋友，一個小朋友坐一張椅子，椅子不夠 8 張，教室有幾張椅子？

答：() 張

5. 一包巧克力有 7 個，兩包共有幾個巧克力？

答：() 個